











Naam: _____

hallo,

dit is weer een taak voor jou. je doet dat heel goed!

VAK	TAAK	Klaar?
	<u>Spelling:</u> Huistaak 4 Leesopdracht	
	<u>Rekenen:</u> Rekenen met geld	
	<u>WO:</u> Energie	
	Gezondheid	



Naam: _____

Dagboek van _____


ben je nu veel op je kamer? hoe ziet die er uit? wat doe je daar?

Je mag het ook tekenen:

A large empty rectangular area with a black border, intended for drawing. It occupies the lower half of the page.




schrijf bij elke prent het juiste woord.



















schrijf de drie woorden die rijmen op.

dit vindt de juf/de meester van mijn taak: _____





Naam: _____

DAG 4

heb je een kleur?

heb je rood of blond of bruin haar?
is je huid wit, geel of bruin?
heb je glad haar?
of haar met een krul in?
van geen mens zijn er twee.
rond, plat, klein, groot.
kijk maar om je heen.
de stad is vol kleur!
de man rijdt op een fiets.
de fiets is geel van kleur.
zijn huid is wit als melk.
een vrouw loopt met haar hond.
haar huid is bruin van kleur.
zij loopt graag in de zon.



Teken een grote regenboog.



Schrijf alle kleuren bij de regenboog.

A 1



Tel en vul in.

Lies spaarde ... euro.

Ben spaarde ... euro.

Kaat spaarde ... euro.



2



Verbind als het evenveel is.

●

●

●

●

●

●

●



3



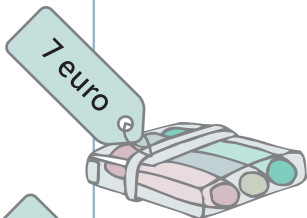
Verbind als het evenveel is.



4



Omkring het juiste bedrag. Gebruik zo weinig mogelijk muntstukken of biljetten.



5



Lees, los op en vul in.

Lies koopt een setje met een balpen en een vulpen voor 6 euro.

Ze betaalt met 10 euro.

Hoeveel krijgt ze terug?

Zet een kring rond de muntstukken die ze terugkrijgt.

Lies krijgt ... euro terug.



Ben koopt een mooie verfdooos.

Hij betaalt met 10 euro en krijgt 2 euro terug.

Hoeveel kost die verfdooos?

De verfdooos van Ben kost ... euro.



B 1



Leg het bedrag met muntstukken.

Kleur het overeenstemmende vakje.



€ 3

€ 4

€ 5

€ 8



€ 3

€ 4

€ 5

€ 8



€ 3

€ 4

€ 5

€ 8



2



Leg en omkring het juiste bedrag. Gebruik zo weinig mogelijk muntstukken of biljetten.

Scenario 1: A box with a price tag of 3 euro. Payment options: one 5 euro bill and two 2 euro coins; or one 5 euro bill, one 2 euro coin, and one 1 euro coin.

Scenario 2: A pen with a price tag of 6 euro. Payment options: one 5 euro bill and two 2 euro coins; or one 5 euro bill, one 2 euro coin, and one 1 euro coin.

C 1



Tel en vul in.



... euro



... euro



... euro

2



Reken uit en schrijf het antwoord op.

Kaat koopt een doos kleurpotloden van 6 euro en een vulpen van 3 euro.
 Ze betaalt met 10 euro.
 Hoeveel euro krijgt ze terug?

Kaat krijgt ... euro terug.

Remediëren




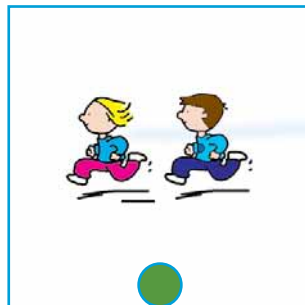
Verwarmen, bewegen en verlichten



Dit kun je straks

Je kunt vertellen of een energiebron zorgt voor verwarming, beweging of verlichting

Wat hoort bij elkaar? Kleur geel, rood of groen.





kleurpotloden of stiften

een komkommer



een limoen



plankje, mesje, fruitpers, kan, glas, suiker

kerstomaatjes



een sinaasappel



prikkers



water



blokjes kaas



gezond drankje



snij de  in twee.

pers het sap



snij de  in twee.

pers het sap



giet er het flesje water bij



je kunt er een beetje suiker bij doen

vraag aan mama of papa wat mag.
was goed je handen voor je aan de slag gaat!



lekker hapje





kleur mij mooi in

