











Naam: _____

DAGTAAK 15

hallo,

hoe was de vakantie? klaar om weer aan de slag te gaan?

VAK	TAAK	Klaar?
	<u>Spelling</u> : Woorden uit het dictee Leesopdracht	
	<u>Rekenen</u> : Optellen tot 20 zonder brug	
	<u>WO</u> : Mijn tuin	
	Wijs met wol	



Naam: _____

Dagboek van _____

hoe was de vakantie?

Je mag het ook tekenen:

T1 rem 1: woorden uit het dictee

a

tak
sam

e

bes
ren

i

wit
sip

o

sok
bos

u

mus
juf

1

rat en sam



■ verbind de letters onder de ratkaart met elkaar.



■ schrijf de woorden op.



s a m



r e n



s i p



b o s



m u s

2 sam is geen ram



■ kies een rijmwoord.



■ schrijf het woord op.

ren – wit – sip – tak

ik neem mijn **pen** en

er hangt een **zak** aan een

jip kijkt heel

een **pit** is niet

3 ken ik jou?



■ schrijf het juiste woord bij elke prent.









■ een foutje mag. schrijf het hier eenmaal goed.
vertel me hoe je het doet!

hoe deed ik de taak?



ik denk



juf/meester vindt

Opdrachten lezen 1^e leerjaar

- Lees de woorden.

dief	zoek	vind	zak	jas	wil
zie	doe	hulp	help	sein	wel
brief	miel	bang	ziet	blij	wij

- Lees de tekst.
- Maak dan de opdracht.



de dief is weg!

een dief nam een jas.

de jas was van miel.

ik zoek de dief.

help je mij?

als je de dief ziet,

geef je mij dan een sein?

miel is wat bang.

hij wil zijn jas.

ziet hij hem nog weer?

of weet jij waar de dief is?

dank je wel voor je hulp!

OPDRACHT



schrijf op. waar denk je dat de dief is?
verzin maar wat!

Fantastische totalen



Hoi! Ik ben Puntie, de slimme helper van Tovenaar Wisstaf.

Ik maak vaak het **totaal van 3 getallen**.

Dan gebruik ik een toverformule!

Kijk maar!

4 6 7

Ik kijk altijd goed naar de getallen. Zijn er twee getallen bij die samen 10 vormen?

$$6 + 4 + 7 = 10 + 7 = 17$$

Makkelijk als je weet hoe het moet!

Taak 1 En nu jij. Schrijf telkens het totaal van deze toverkaarten op.

a

4



6



b

2



8




c

5



5



d




7









3






Taak 2 Wauw! De totalen worden groter! Tel de 3 getallen op en schrijf het totaal. Knap! Je hebt het al beet!

a   


b   


c   


d   


Taak 3 Hoeveel wisselgeld zit er in de geldbeurzen van Toveraar Wisstaf? Schrijf het totaal. De tovenaar telde zijn geld al voor één geldbeurs.

 Totaal € 12

a  Totaal €

b  Totaal €

c  Totaal €

d  Totaal €

Tovenaarstoets

Oefenen baart kunst! Elk toverboek kent maar één totaal. Vul jij de getallen aan? Maak elke som anders.

a $10 + \boxed{5}$
 $5 + \boxed{}$
 $\boxed{} + 4$
 $\boxed{} + \boxed{}$
 $\boxed{} + \boxed{}$

15

b $10 + 8$
 $8 + \boxed{}$
 $\boxed{} + 11$
 $\boxed{} + \boxed{}$
 $\boxed{} + \boxed{}$

18

Knap gedaan, kleine tovenaar!
 Kleur maar weer een ster op je diploma.




Mijn tuin



Dit kun je straks


Je kent een moestuin en een bloementuin. Je weet welke dieren en planten er in de tuin leven.

- 1 Verbind elke foto met de juiste tuin.
Er passen soms foto's in de twee tuinen.





2 Zoek en kleur de dieren die in deze tuin leven.



Wijs met wol

naam: _____




computer, wol, plakband, eventueel wiebelogjes

Vingerhaken



- Bekijk hoe je kunt vingerhaken via YouTube, zoekterm 'Tex Vingerhaken'.



- Kies twee kleuren wol.
- Haak een lange sliert.
- Maak er een vriendschapsbandje van.



- Maak je liever een slang?
- Kies dan voor dickere wol en meer draden.

